

【コンピュータサービス技能評価試験

表計算部門 3 級 受験対策練習問題集 ドリル ②】

Lesson7～Lesson8

！注意！

このドリルは、データをダウンロードしてから初めてください。（ダウンロード方法は別紙）

◆ Lesson7

※下のファイルを開いておきましょう。

H21hyo3_Ver1.1.01 フォルダ — ドリルフォルダ — ドリル_提供データ の中の・・・
— Lesson7 提供.xls —

【問題1】 …… 問題1シートを開いておきます。

（問1）セル範囲 B3 : G24 について、「商品 NO」の小さい順に上から表を並べかえなさい。

【問題2】 …… 問題2シートを開いておきます。

（問1）セル範囲 B3 : G24 について、「金額」の高い順に上から表を並べかえなさい。

【問題3】 …… 問題3シートを開いておきます。

（問1）セル範囲 B3 : G24 について、「単価」の低い順に上から表を並べかえなさい。

【問題4】 …… 問題4シートを開いておきます。

（問1）セル範囲 B3 : G24 について、「商品名」の昇順に上から表を並べかえなさい。

【問題5】 …… 問題5シートを開いておきます。

（問1）セル範囲 B3 : G24 について、「数量」の降順に上から表を並べかえなさい。

【問題6】 …… 問題6シートを開いておきます。

（問1）セル範囲 B3 : G24 について、「入荷日」の早い順に上から表を並べかえなさい。

◆ Lesson8

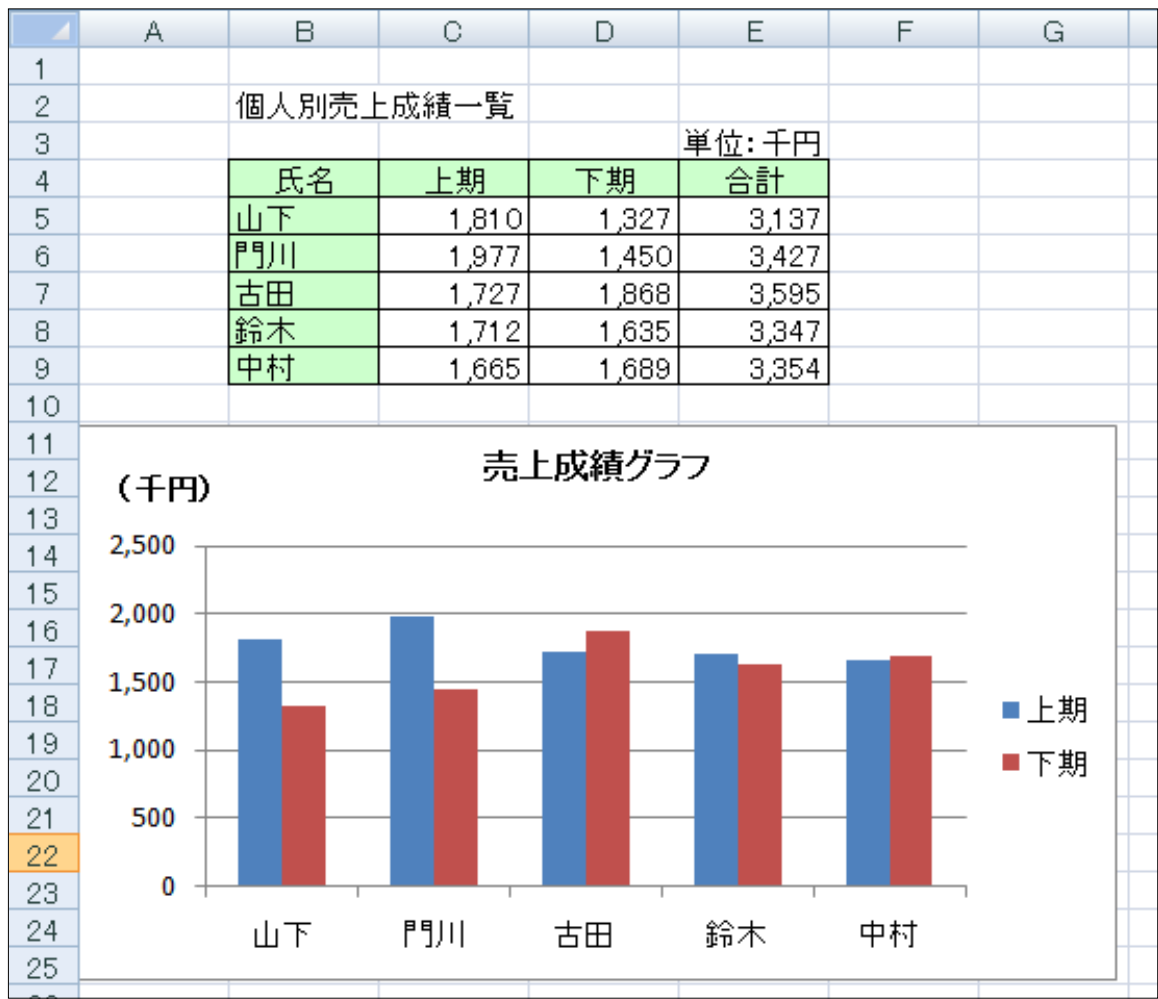
※下のファイルを開いておきましょう。

H21hyo3_Ver1.1.01 フォルダ — ドリルフォルダ — ドリル_提供データ の中の・・・
— Lesson8 提供.xls —

【問題 1】 …………… 問題 1 シートを開いておきます。

（問 1）下の<完成イメージ>のような集合縦棒グラフを作成しなさい。詳細は以下のとおりとする。詳細でとくに指示のないフォントについては、全て MSP ゴシック 11 ポイントとする。

- ①グラフ作成位置：セル範囲 A11：G25
- ②グラフタイトル：「売上成績グラフ」
フォントは MSP ゴシック 12 ポイント、太字、
- ③凡 例：表示位置は右
- ④縦（値）値ラベル：「(千円)」
配置は横書きで縦（値）軸の上側、フォントは太字



【問題2】 …… 問題2シートを開いておきます。

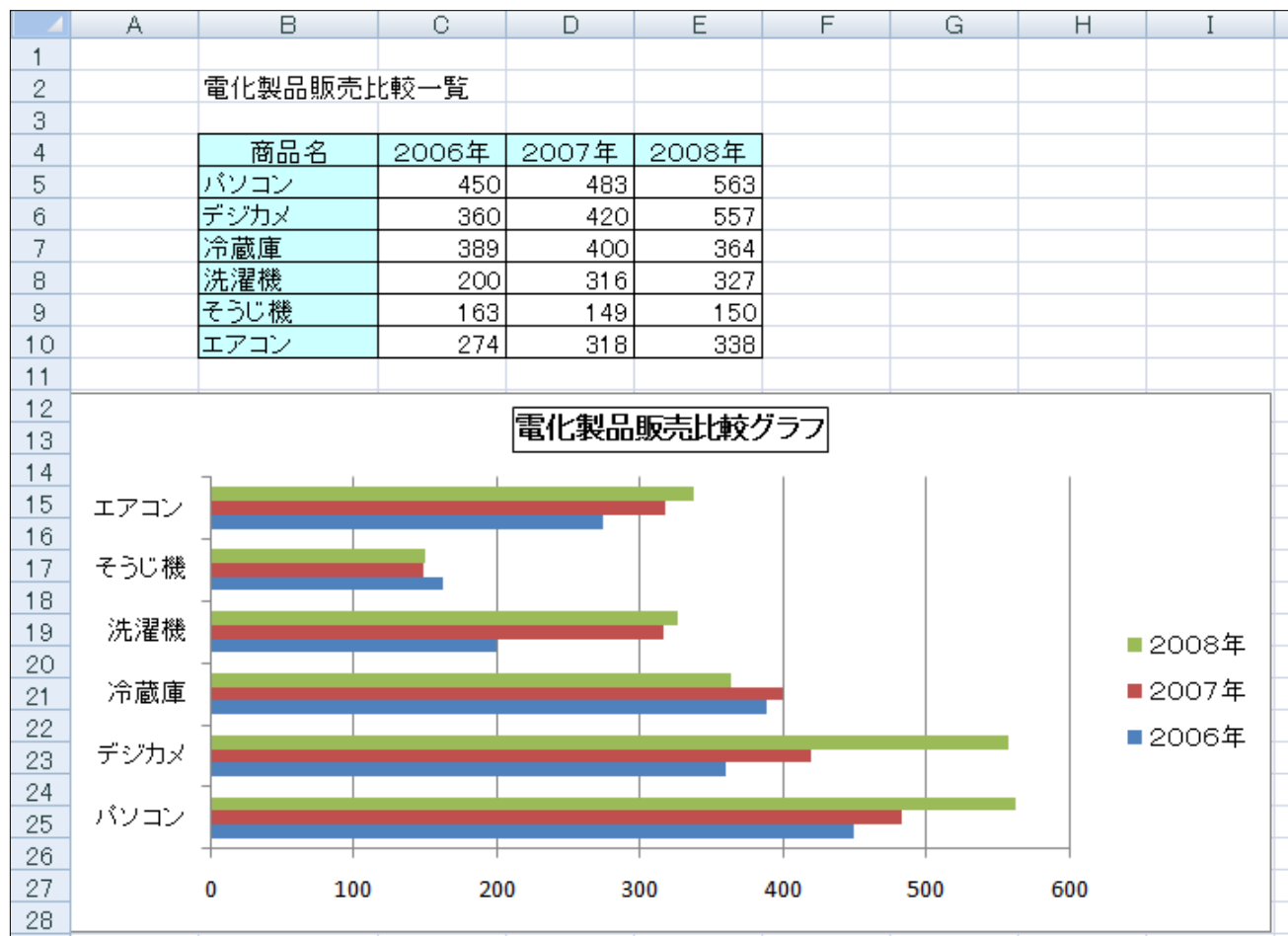
(問1) 下の<完成イメージ>のような集合縦棒グラフを作成しなさい。詳細は以下のとおりとする。詳細でとくに指示のないフォントについては、全てMSPゴシック11ポイントとする。

①グラフ作成位置：セル範囲A12:I28

②グラフタイトル：「電化製品販売比較グラフ」

フォントはMSPゴシック12ポイント、太字、枠線の色は黒色

③凡 例：表示位置は右



【問題3】 …… 問題3シートを開いておきます。

(問1) 下の<完成イメージ>のようなマーカーが付けられた折れ線グラフを作成しなさい。詳細は以下のとおりとする。詳細でとくに指示のないフォントについては、全て MSP ゴシック 11 ポイントとする。

①グラフ作成位置：セル範囲 B9：I24

②グラフタイトル：「営業課売上推移」

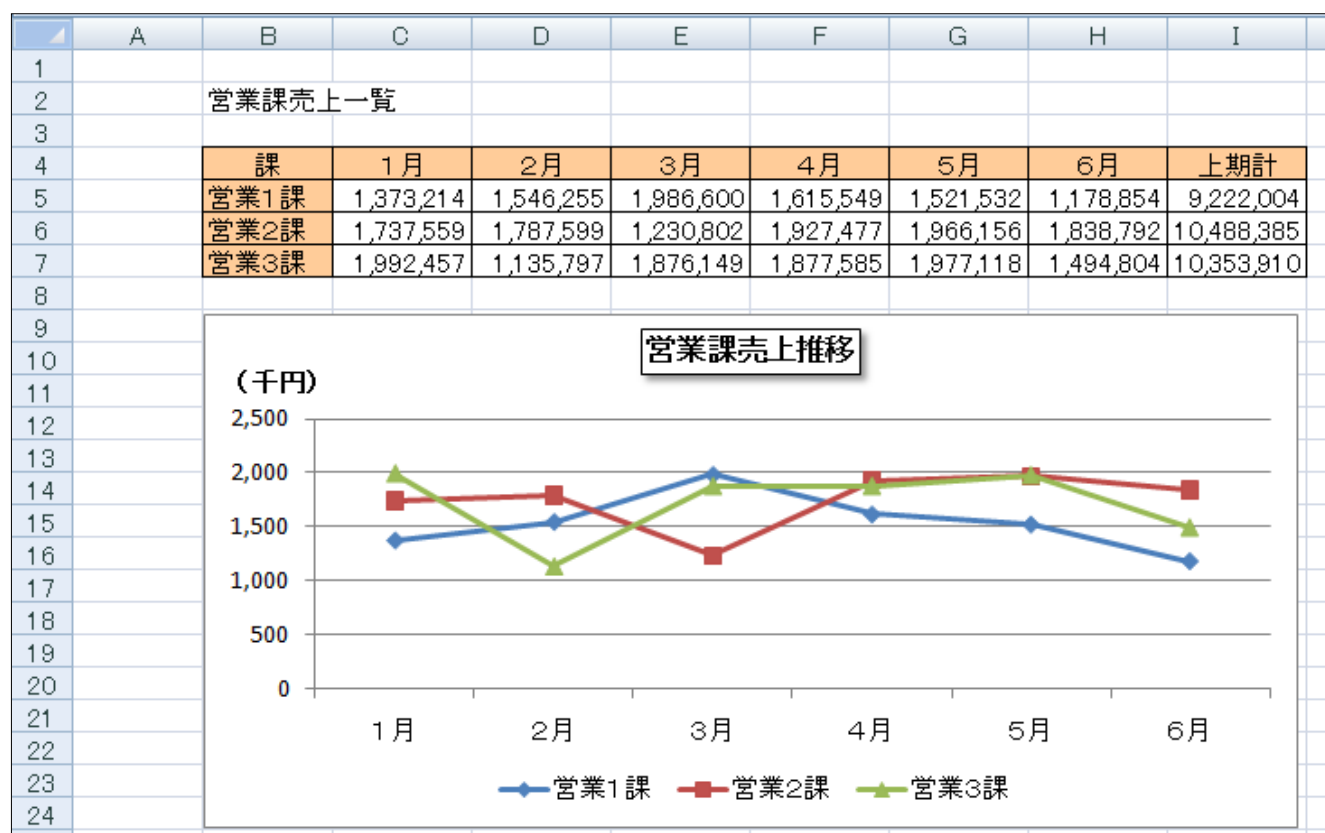
フォントは MSP ゴシック 12 ポイント、太字、塗りつぶしは白色、枠線の色は黒色、影は外側（斜め右下）で黒色

③凡 例：表示位置は下

④縦（値）軸の書式：目盛の表示単位は「千」、表示単位ラベルはグラフに表示しない

⑤縦（値）軸ラベル：「(千円)」

配置は横書きで縦（値）軸の上側、フォントは太字



【問題4】 …… 問題4シートを開いておきます。

(問1) 下の<完成イメージ>のような積み上げ縦棒グラフを作成しなさい。詳細は以下のとおりとする。詳細でとくに指示のないフォントについては、全て MSP ゴシック 11 ポイントとする。

①グラフ作成位置：セル範囲 A11：H35

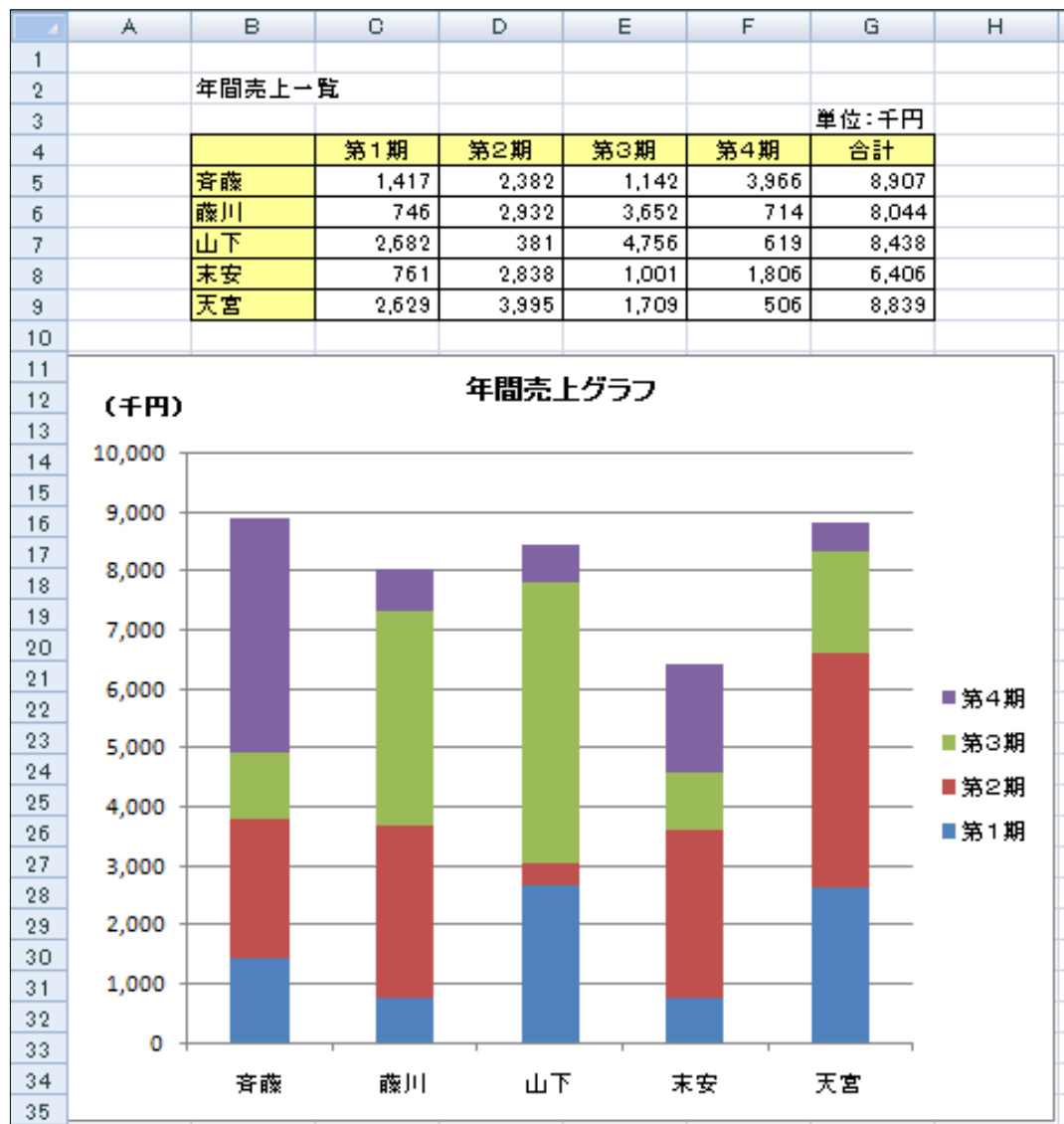
②グラフタイトル：「年間売上グラフ」

フォントは MSP ゴシック 12 ポイント、太字、

③凡 例：表示位置は右

⑤縦（値）軸ラベル：「(千円)」

配置は横書きで縦（値）軸の上側、フォントは太字



【問題5】 …… 問題5シートを開いておきます。

(問1) 下の<完成イメージ>のような 100%積み上げ横棒グラフを作成しなさい。詳細は以下のとおりとする。
 詳細でとくに指示のないフォントについては、全て MSP ゴシック 11 ポイントとする。

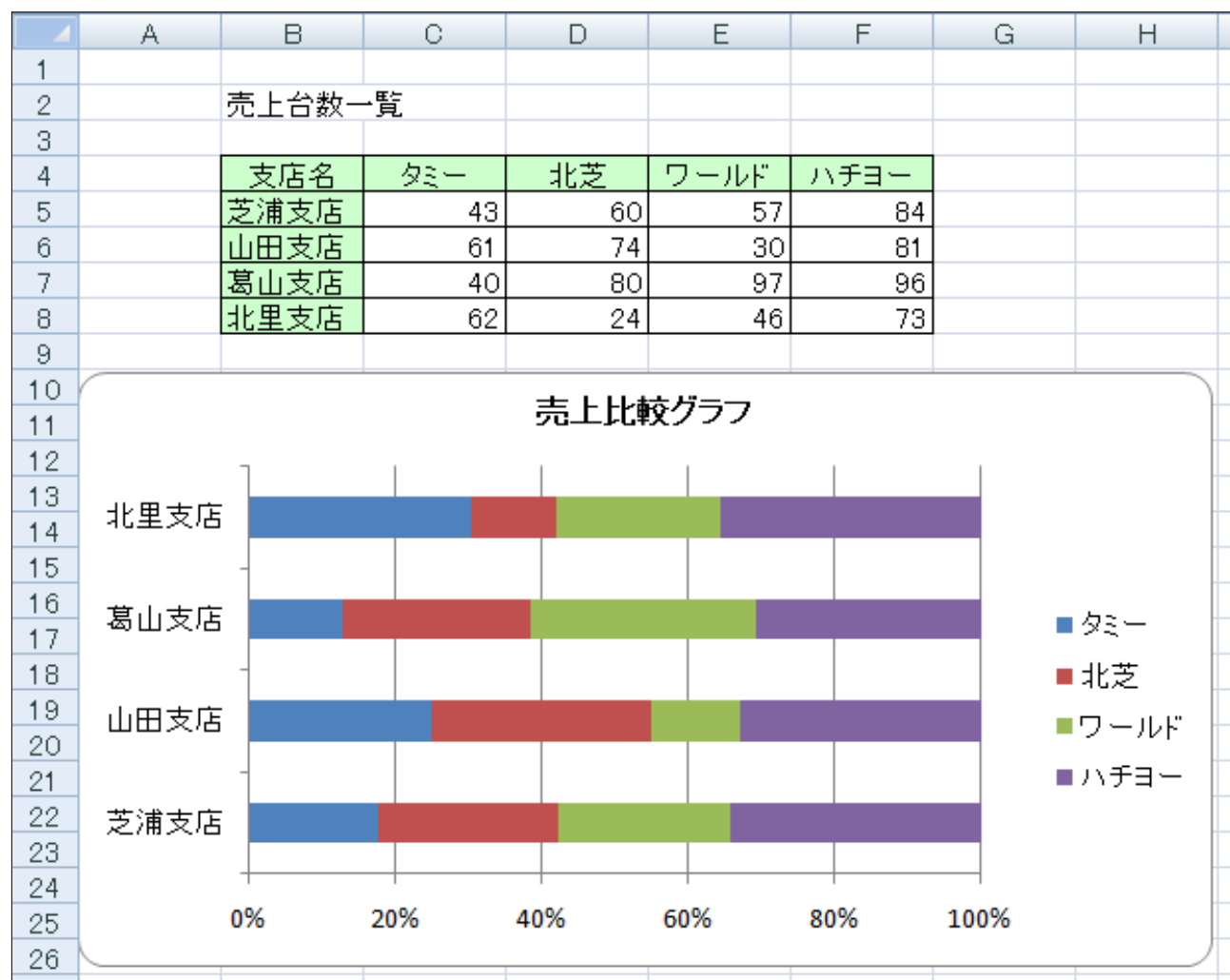
①グラフ作成位置：セル範囲 A10：H26

②グラフタイトル：「売上比較グラフ」

フォントは MSP ゴシック 12 ポイント、太字、

③凡 例：表示位置は右

④グラフエリア：枠線のスタイルは角を丸く



【問題6】 …… 問題6シートを開いておきます。

(問1) 下の<完成イメージ>のような円グラフを作成しなさい。詳細は以下のとおりとする。詳細でとくに指示のないフォントについては、全て MSP ゴシック 11 ポイントとする。

①グラフ作成位置：セル範囲 E4：K26

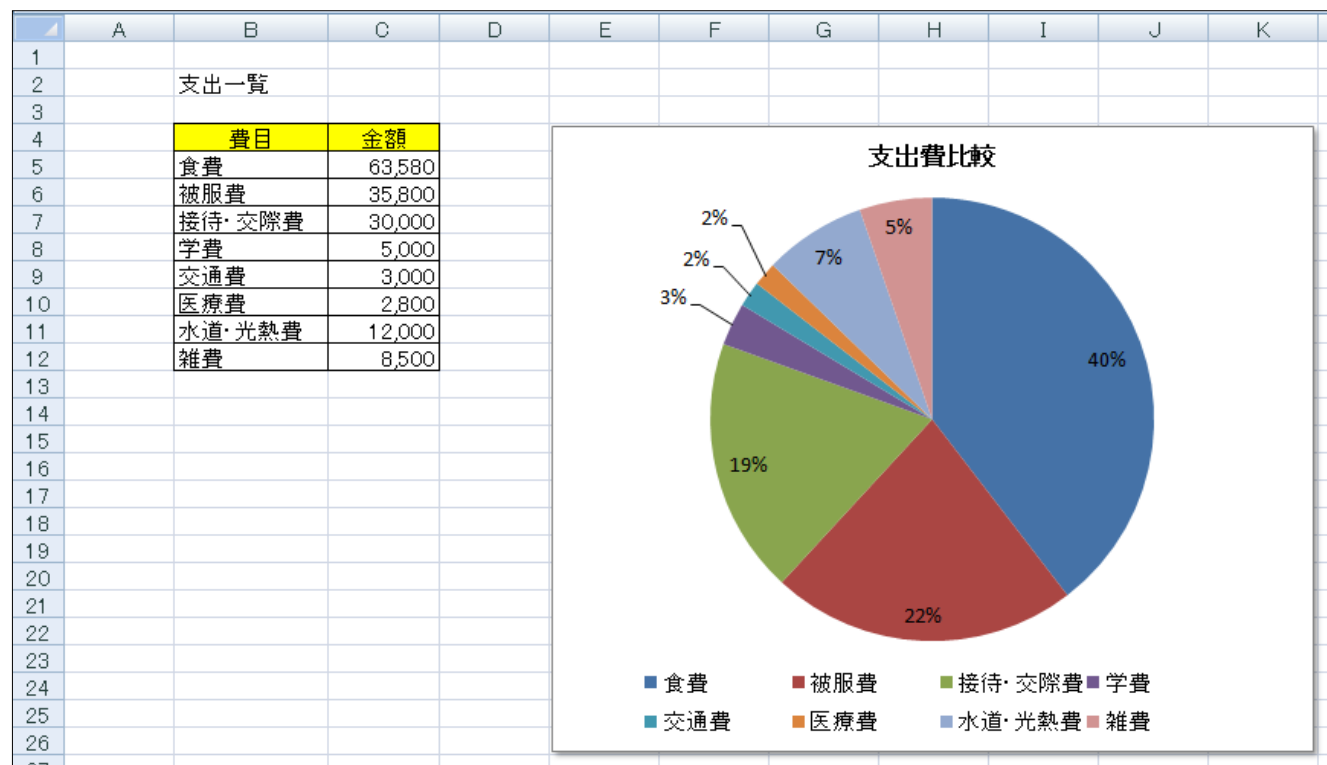
②グラフタイトル：「支出費比較」

フォントは MSP ゴシック 12 ポイント、太字、

③凡 例：表示位置は下

④データラベル：ラベルの内容はパーセンテージ、<完成イメージ>のように引き出し線を表示する

⑤グラフエリア：影は外側(斜め右下)で黒色



【問題7】 …… 問題7シートを開いておきます。

(問1) 下の<完成イメージ>のようなマーカー付き折れ線グラフを作成しなさい。詳細は以下のとおりとする。
 詳細でとくに指示のないフォントについては、全て MSP ゴシック 10 ポイントとする。

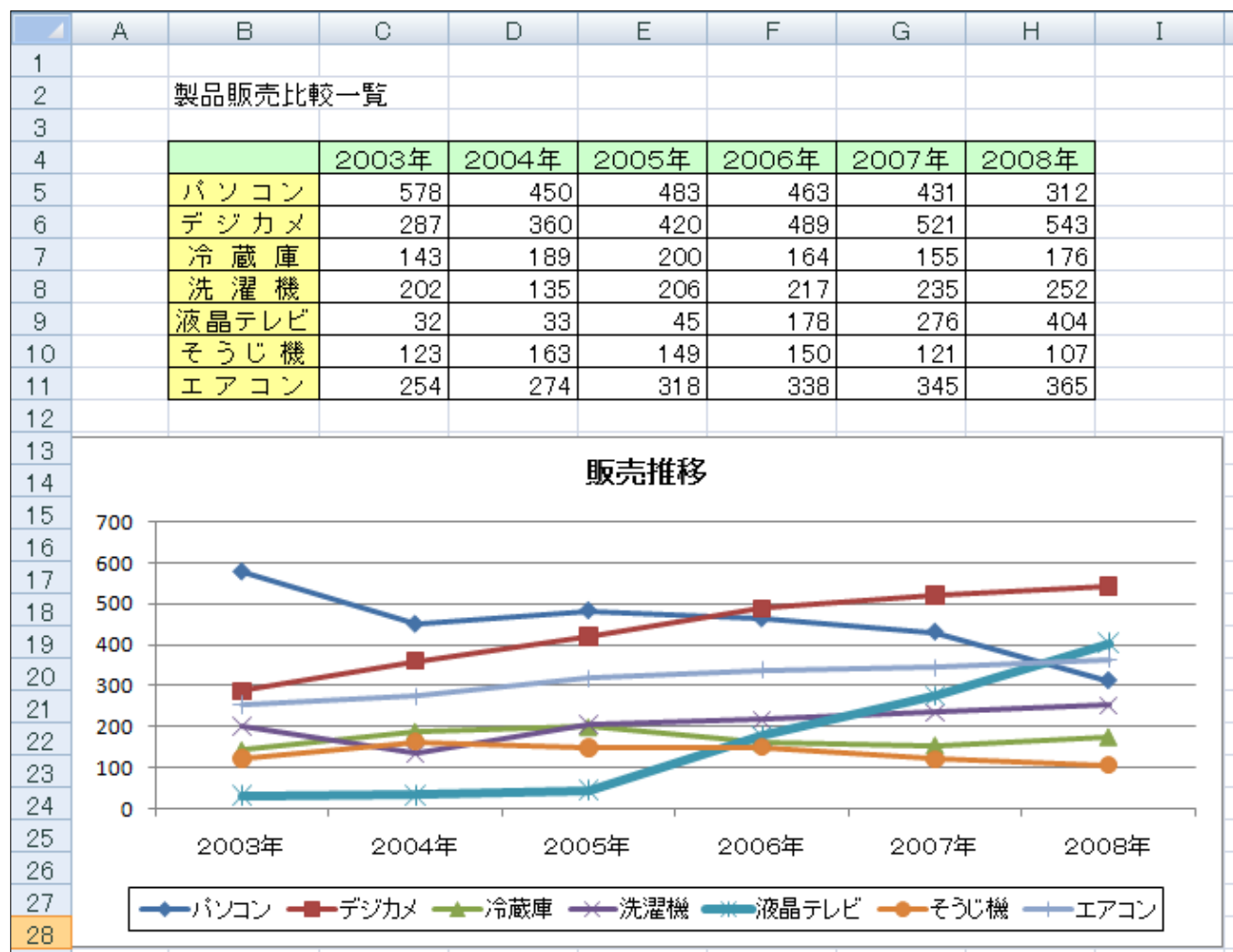
①グラフ作成位置：セル範囲 A13：I28

②グラフタイトル：「販売推移」

フォントは MSP ゴシック 12 ポイント、太字、

③凡 例：表示位置は下、塗りつぶしは自動、枠線の色は黒色

④データ系列：「液晶テレビ」のマーカーのサイズは8ポイント、線のスタイルの幅4ポイント



【問題8】 …… 問題8シートを開いておきます。

(問1) 下の<完成イメージ>のような積み上げ横棒グラフを作成しなさい。詳細は以下のとおりとする。詳細でとくに指示のないフォントについては、全て MSP ゴシック 11 ポイントとする。

①グラフ作成位置：セル範囲 A11：H26

②グラフタイトル：「個人成績比較（門川・古田・鈴木）」

フォントは MSP ゴシック 12 ポイント、太字、

③凡 例：表示位置は下

④縦（項目）軸：上から「門川」「古田」「鈴木」の順番になるように反転、横軸との交点は最大項目

④データ系列：「6月」のデータラベルの値を表示、フォントは10ポイント



【問題9】 …… 問題9シートを開いておきます。

(問1) 下の<完成イメージ>のような円グラフを作成しなさい。詳細は以下のとおりとする。詳細でとくに指示のないフォントについては、全て MSP ゴシック 11 ポイントとする。

①グラフ作成位置：セル範囲 B11：G30

②グラフタイトル：「第3期比較」

フォントは MSP ゴシック 12 ポイント、太字、

③凡 例：表示しない

④データラベル：ラベルの内容は分類名とパーセンテージ、引き出し線は表示しない、

パーセンテージ表示形式は小数点以下1桁フォントは MSP ゴシック 10 ポイント

④データ系列：「山下」のデータ要素を<完成イメージ>を参考に切り離す。

(問2)

②印刷範囲の設定：セル範囲 B2G30

②余 白：上下左右 2cm、ページの中央（水平・垂直とも）に配置

③ヘ ッ ダ ー：中央に「第3期と表示

④フ ッ タ ー：中央に「本日の日時」（試験日）を自動で挿入表示

